

పట నైపుణ్యాభివృద్ధి : భావనలు

Preparaed by: *Rambabu. S*, SA(SS), ZPHS GARUDABILLI, Vizianagaram.

ముఖ్య భావనలు

- ✓ పేటము
- ✓ పేటాలు - రకాలు
- ✓ పేటము - భాగాలు
- ✓ పేట నైపుణ్యాలు
- ✓ మాన చిత్రము - చిత్తు చిత్రము
- ✓ చిత్రము - పేటము
- ✓ కాంటూరు రేఖలు

పటము

పటము

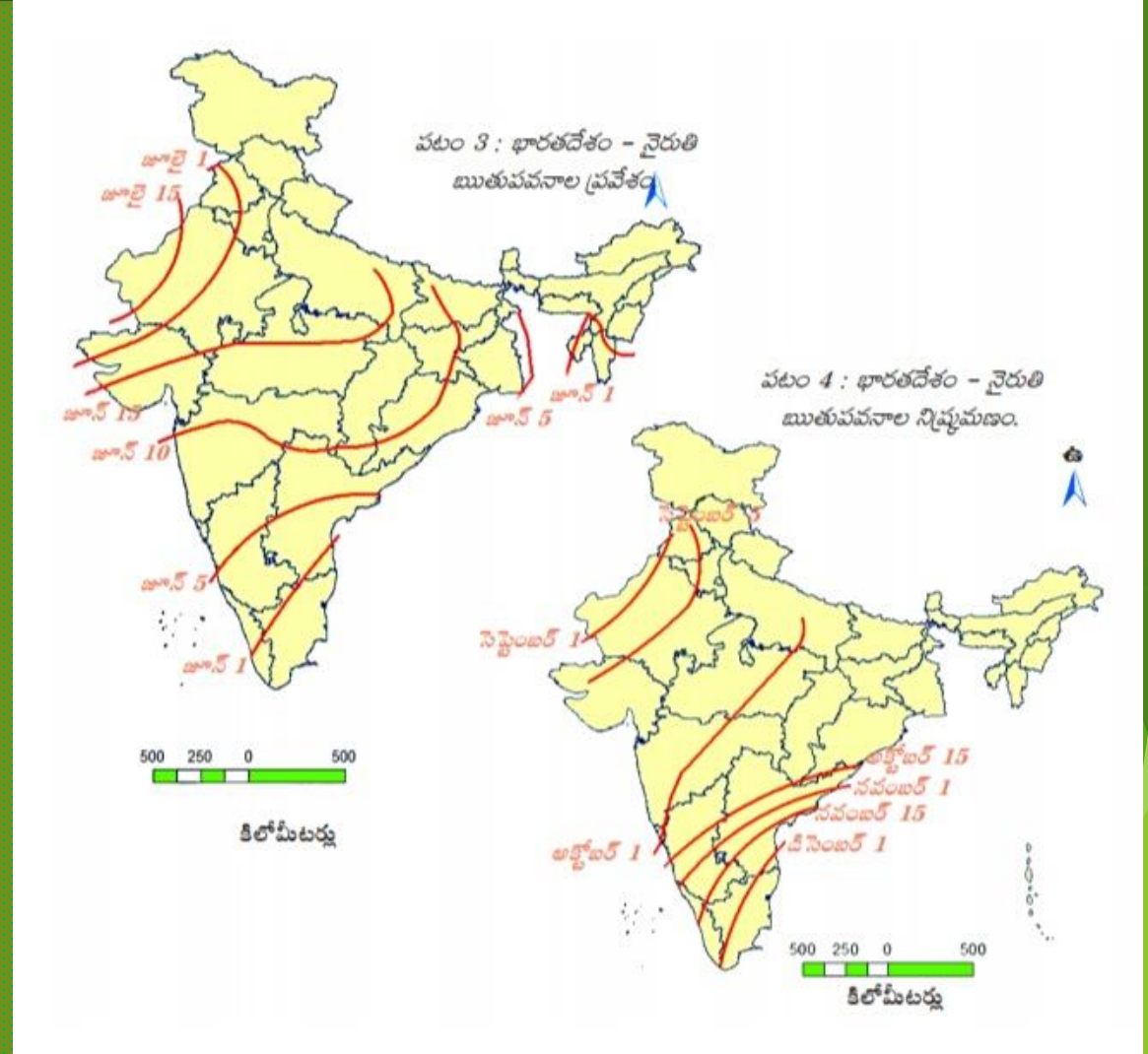
- ఒక ప్రదేశముయొక్క నమూనాను దిక్కులు,స్కేల్ ,చిహ్నాలతో సూచించు చిత్రమును " పటము " అందురు.
- పటము అనునది ఒక ప్రదేశం యొక్క దృశ్యమాన ప్రతిరూపం.

పటము - వివిధ భాగాలు

1. శీర్షిక:

పటము దేనిని ప్రతిబింబిస్తుందో

తెలియజేస్తుంది.



2. ಬಿಕ್ಕುಲು :

ಪೆಟಮು ಪೈ ಭಾಗಂ

- ಁತ್ತೆರ ಬಿಕ್ಕುನು

ಪೆಟಮು ಬಿಗುವ ಭಾಗಮು

- ದಕ್ಷಿಣ ಬಿಕ್ಕುನು

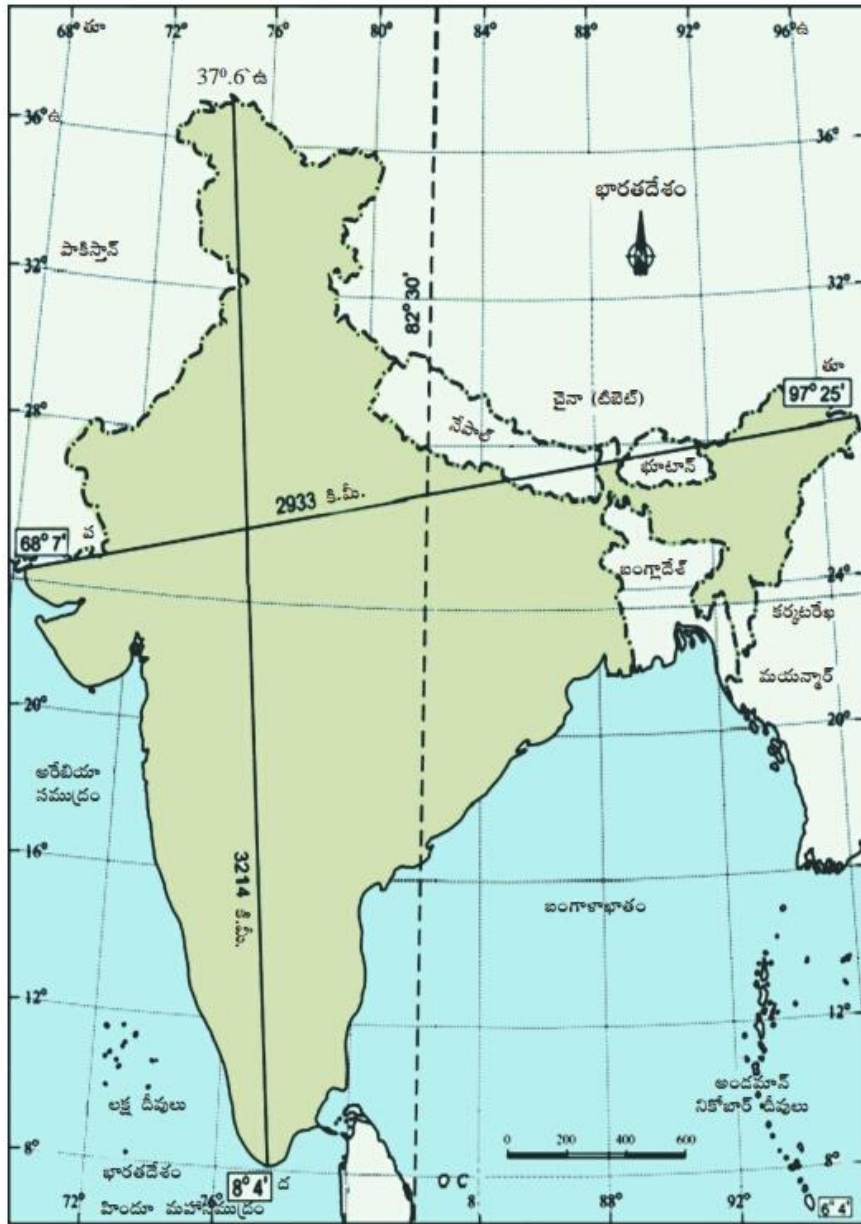
ಪೆಟಮು ಕುಡಿ ವೈಪು

- ತೂರ್ಪು ಬಿಕ್ಕುನು

ಪೆಟಮು ಎಡಮ ವೈಪು

- ಪೆಚ್ಚಿಮ ಬಿಕ್ಕುನು


ಸೂಚಿಸ್ತಾಯಿ.



పటం 2 : భారతదేశం-ఉత్తర దక్షిణ, తూర్పు-పడమరల విస్తీర్ణం, ప్రామాణిక రేఖాంశం

పశ్చిమ

ఉత్తర



దక్షిణ

తూర్పు

4. చిహ్నాలు :

ఒక ప్రదేశము లోని వివిధ అంశాలను పటములో చూపడానికి ఉపయోగించే గుర్తులను "చిహ్నాలు" అందురు.

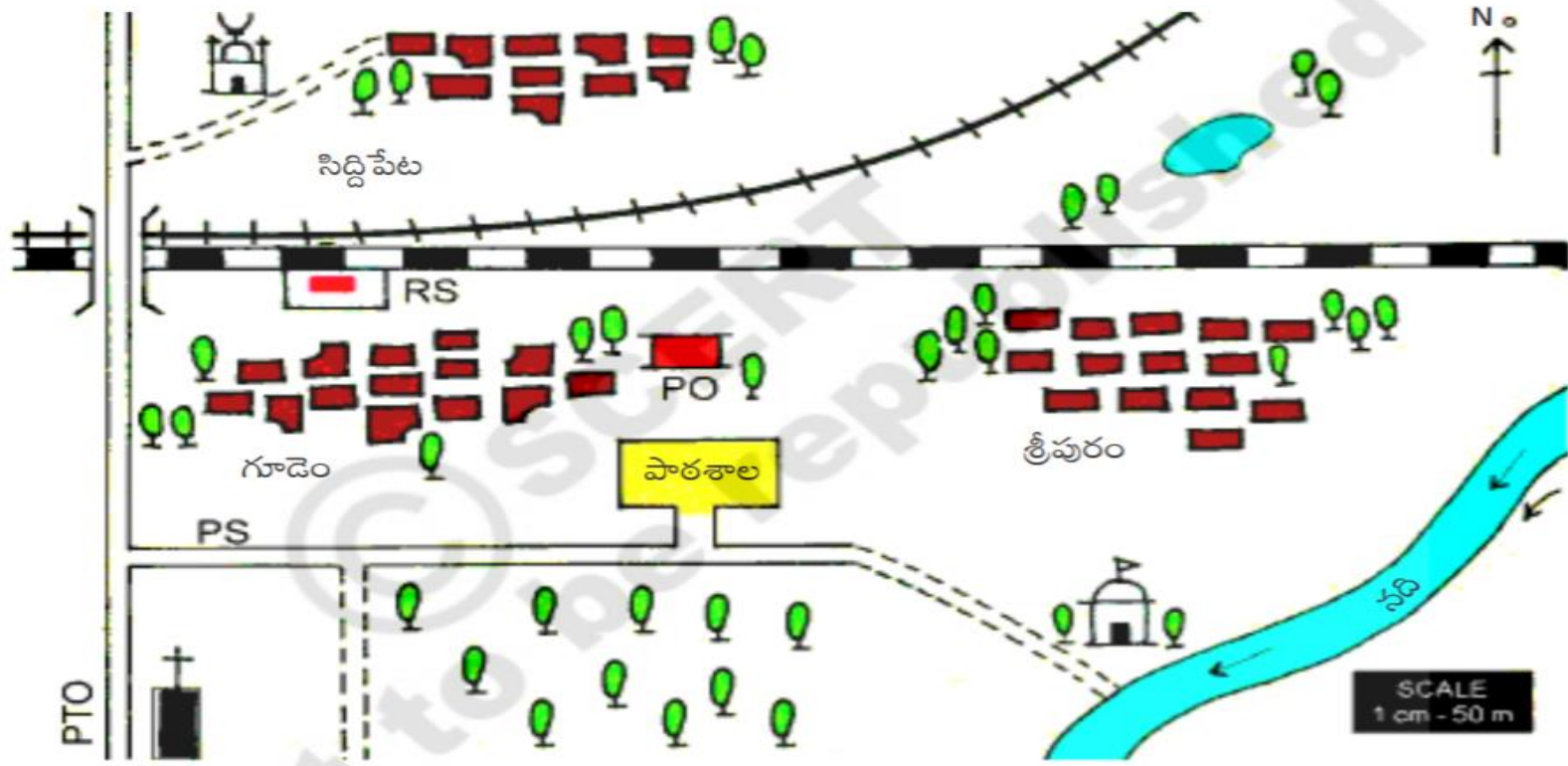
వీటిని 3 రకాలు విభజించవచ్చు.

అవి : 1. బిందువు

2. రేఖ











3. ప్రదేశము





పటం 1. చిహ్నాలను ఎలా ఉపయోగించాలో ఈ మ్యాపును గమనించి తెలుసుకోండి

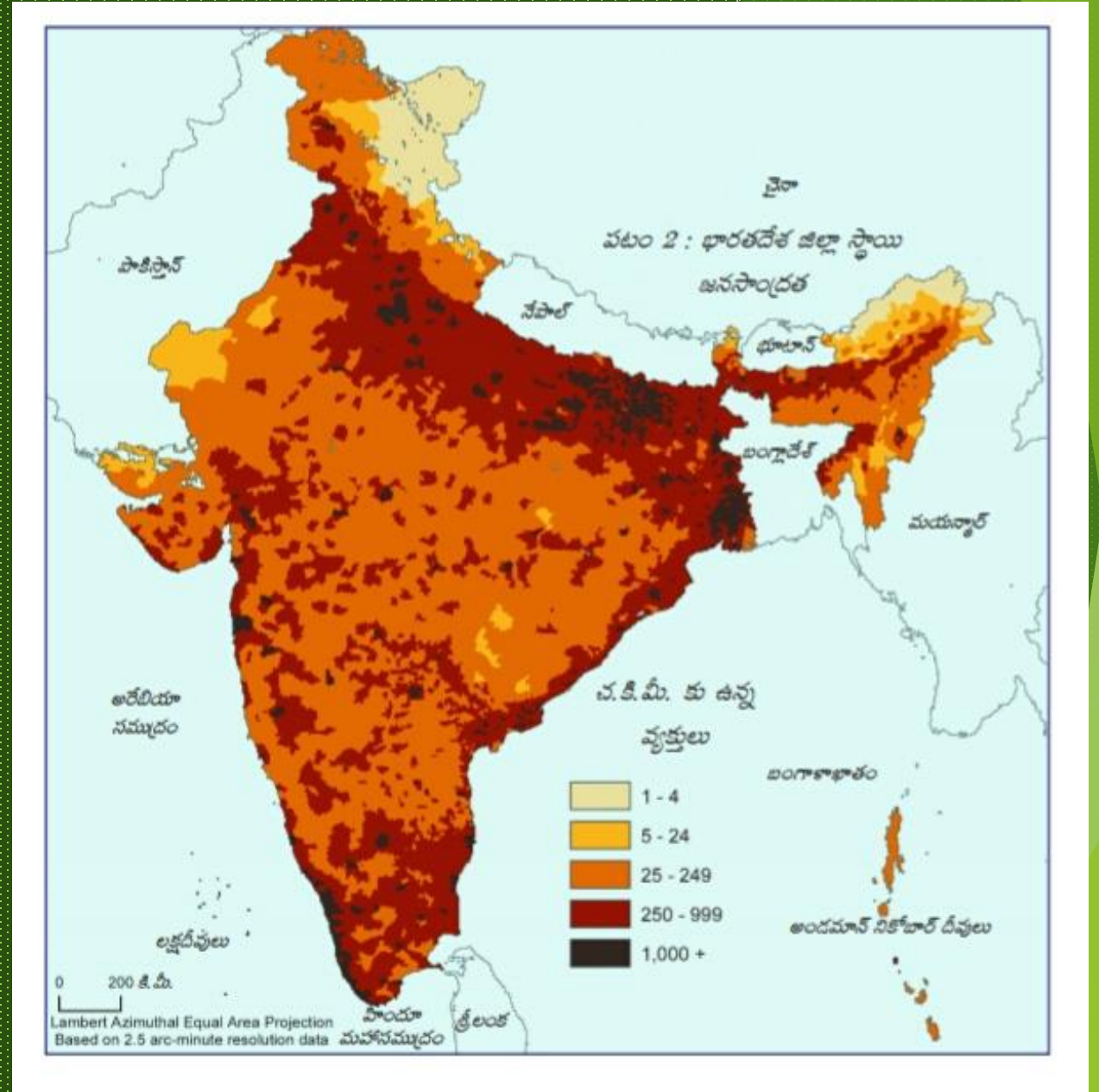
సూచిక













- | | | | |
|-------------------------------------------------------------------------------------------------------------|------------------------------------------------------------------------------------------------------|---------------------------------------------------------------------------------------------------|--------------------------------------------------------------------------------------------------------------|
|  చెట్టు |  చెరువు |  మట్టిరోడ్డు |  తారురోడ్డు |
|  మసీదు |  గుడి |  చర్చి |  బ్రాడ్ గేజ్ రైలుమార్గం |
|  మీటర్ గేజ్ రైలుమార్గం |  నివాసప్రాంతాలు | | |

PTO తంతి తపాల కార్యాలయం
 PS పోలీసు స్టేషన్ RS రైల్వే స్టేషన్ PO పోస్టాఫీసు

5. రంగులు :

పటములో వివిధ భూస్వరూపాలను, ప్రత్యేక అంశాలను చూపడానికి రంగులను ఉపయోగిస్తాము. వీటి ద్వారా ఒక ప్రదేశము యొక్క ఎత్తుపల్లాలను తెలుసుకోవచ్చు.



రంగు	భూ ఆచ్ఛాదన/ భూ వినియోగం
ముదురు ఆకుపచ్చ 	అడవి
లేత ఆకుపచ్చ 	గడ్డి భూములు
గోధుమ/ మట్టిరంగు 	వ్యవసాయానికి అనువైన భూములు
పసుపు పచ్చరంగు (నైసర్గిక పటాలు) 	పంటలు సాగవుతున్న ప్రాంతం
ముదురు ఊదా 	పర్వతాలు
లేత ఊదా 	గుట్టలు
పసుపు పచ్చ 	పీఠ భూములు, చిత్తడి భూములు
లేత ఎరుపు 	బంజరు భూములు
లేత నీలం 	చెరువులు, నదులు, కాలవలు, బావులు వంటివి
ముదురు నీలం 	సముద్రాలు, మహాసముద్రాలు
తెలుపు 	ఖనిజాలు లభ్యమయ్యే ప్రదేశాలు
నలుపు 	సరిహద్దులు

పటాలు - రకాలు

పటాలు - రకాలు

భౌతిక పటాలు

భూస్వరూపాలు అయిన
పర్వతాలు,
పీఠభూములు,
మైదానాలను
తెలుపుతాయి.

రాజకీయ పటాలు

దేశాలు,
రాష్ట్రాలు,
జిల్లాలు,
మండలాలు,
గ్రామాలు వంటి రాజకీయ
విభాగాలను తెలుపుతాయి.

చారిత్రక పటాలు

చారిత్రక అంశాలను
గురించి తెలుపుతాయి.

ప్రత్యేక పటాలు

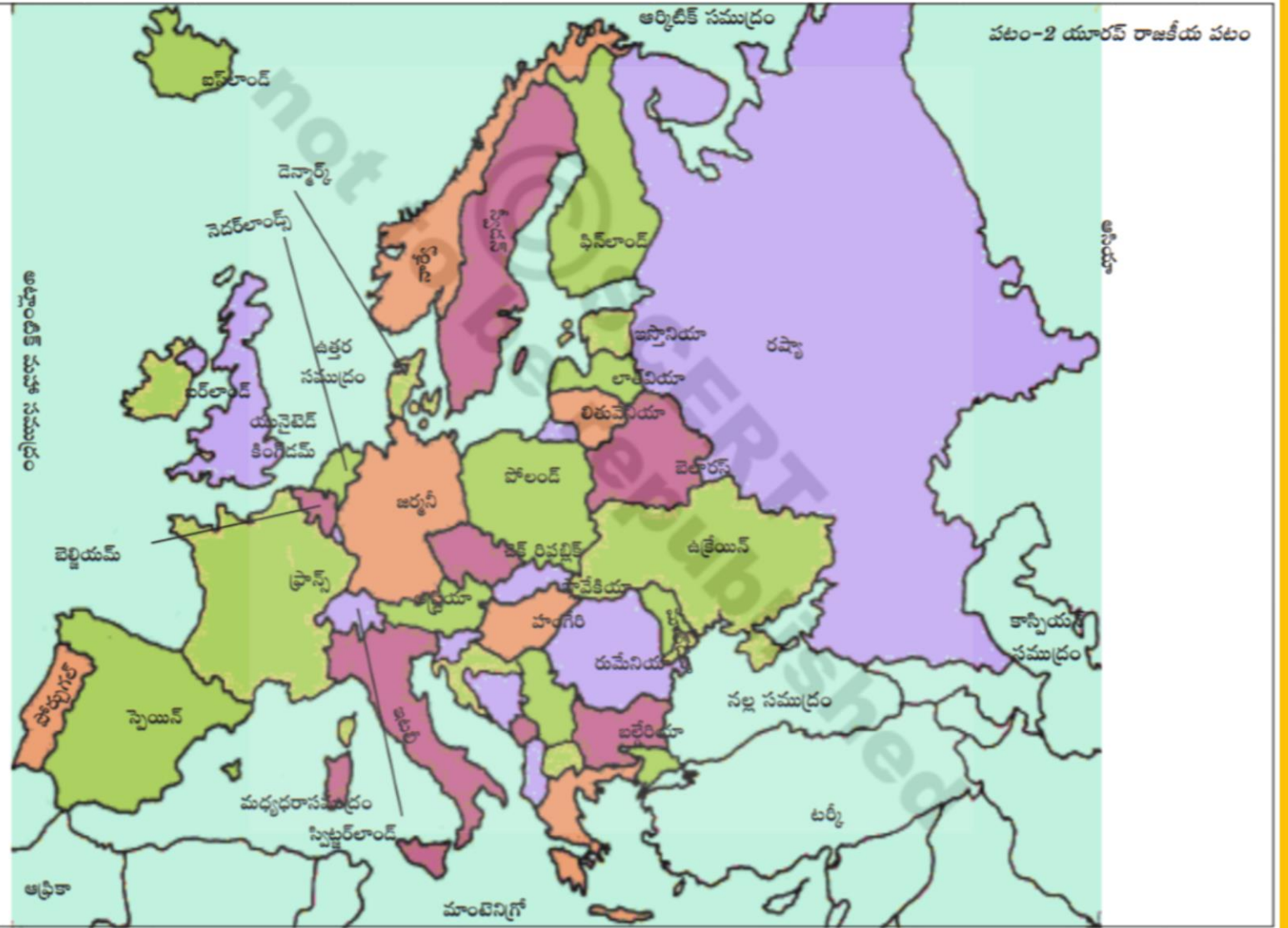
(విషయ నిర్దేశిత పటాలు)

ఎదో ఒక
ప్రత్యేక అంశాన్ని
తెలుపుతాయి.

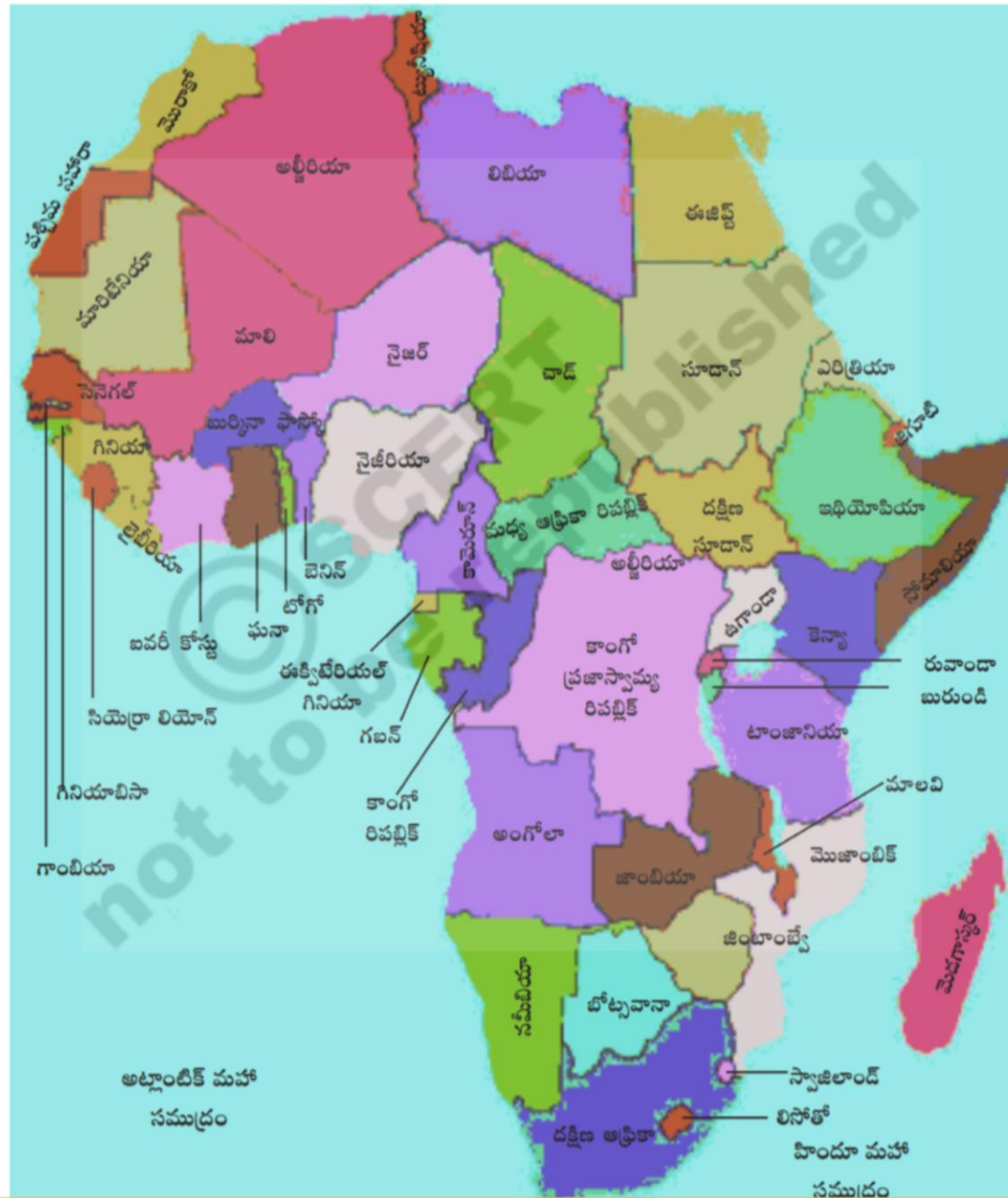
భౌతిక పటాలకు ఉదాహరణ



రాజకీయ పటాలకు ఉదాహరణ



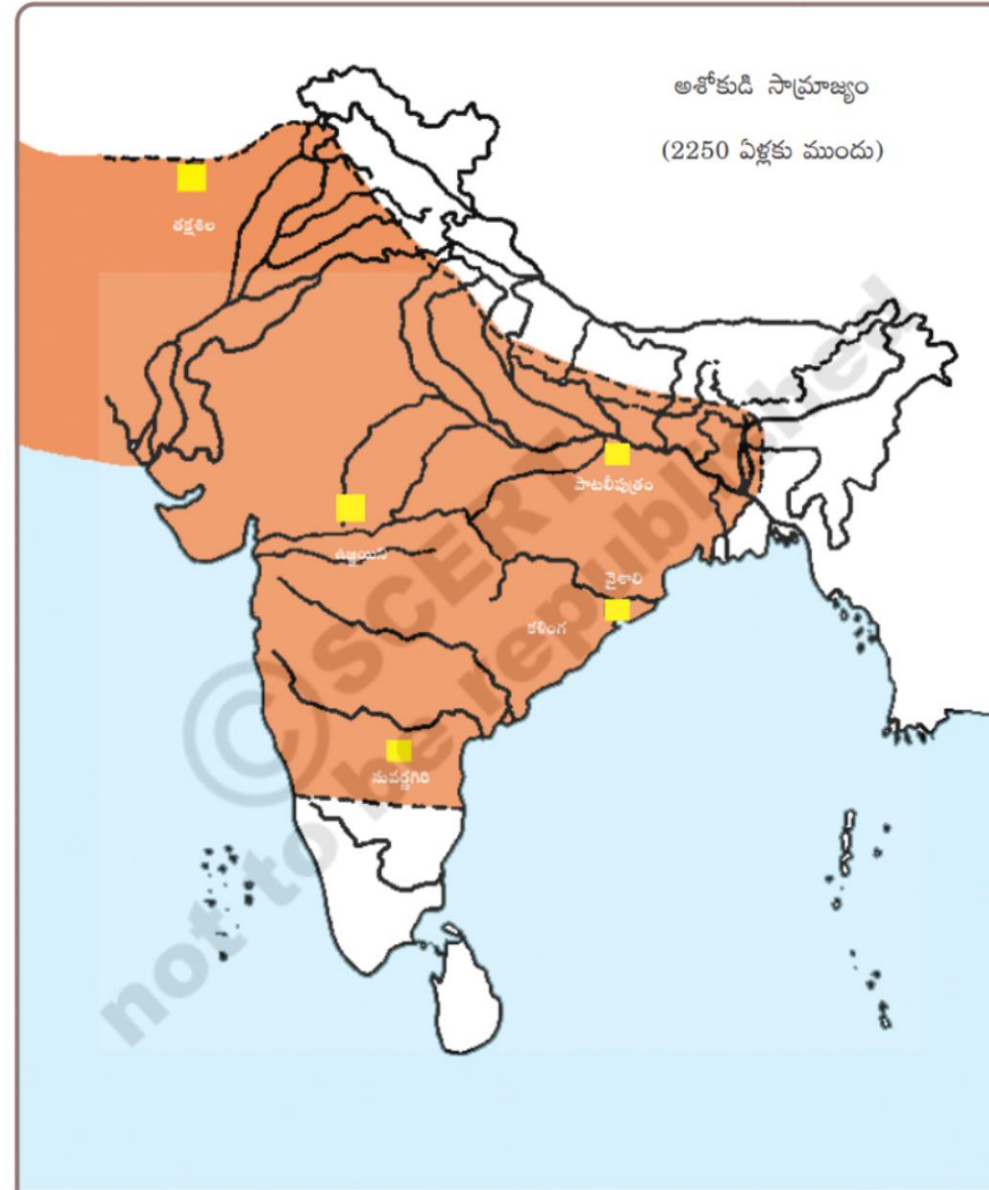
పటం-6 : ఆఫ్రికా దేశాలు

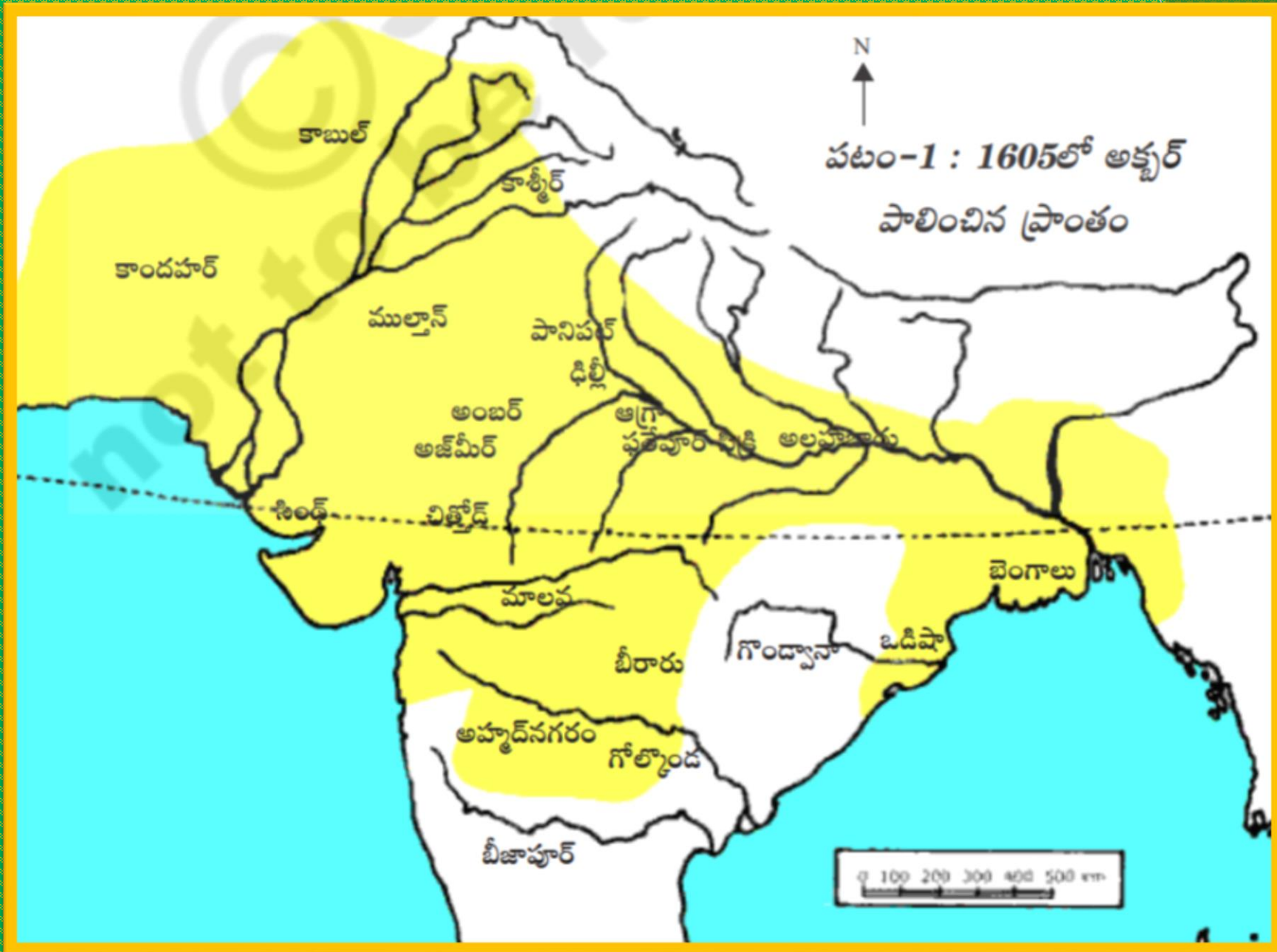


ఆంధ్రప్రదేశ్



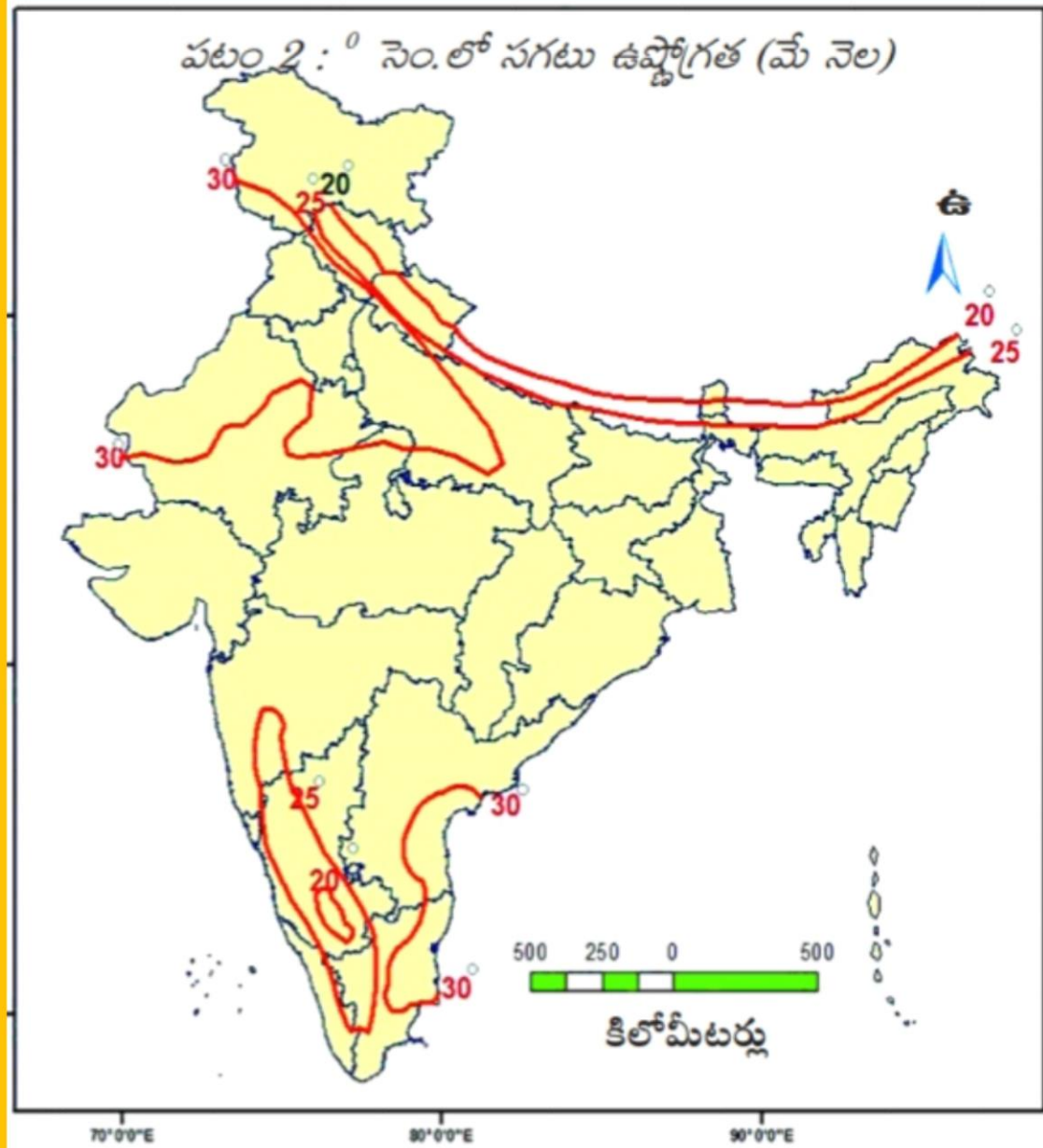
చారిత్రక పటాలకు ఉదాహరణ





ప్రత్యేక పటాలకు ఉదాహరణ

పటం 2 : ° సెం.లో సగటు ఉష్ణోగ్రత (మే నెల)





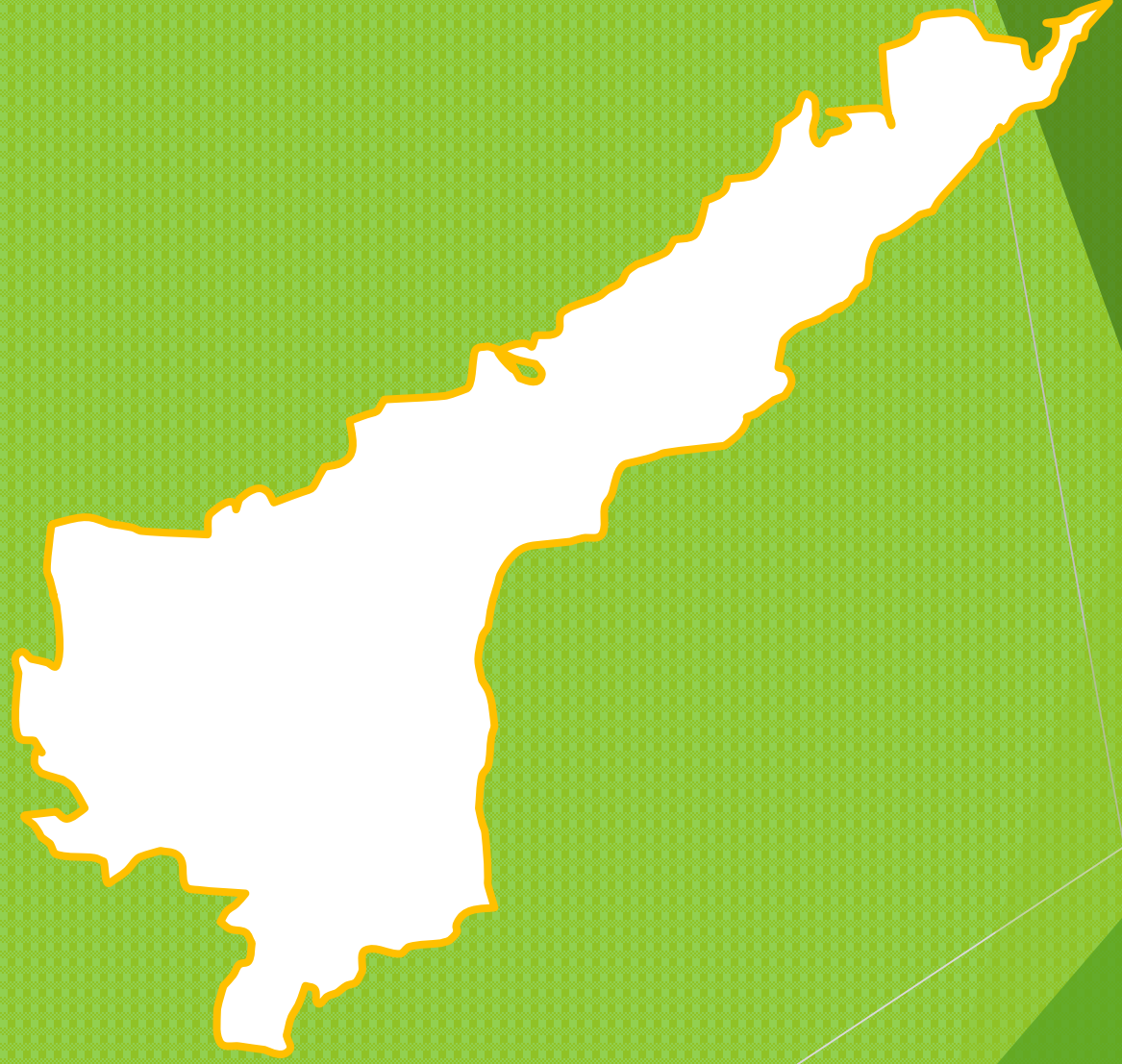
పటం 1 : మానవాభివృద్ధిని సూచించు ప్రపంచ పటం. వివిధ ఖండాలలో మానవాభివృద్ధి తీరుతెన్నులను గమనించండి

పట నైపుణ్యాలు

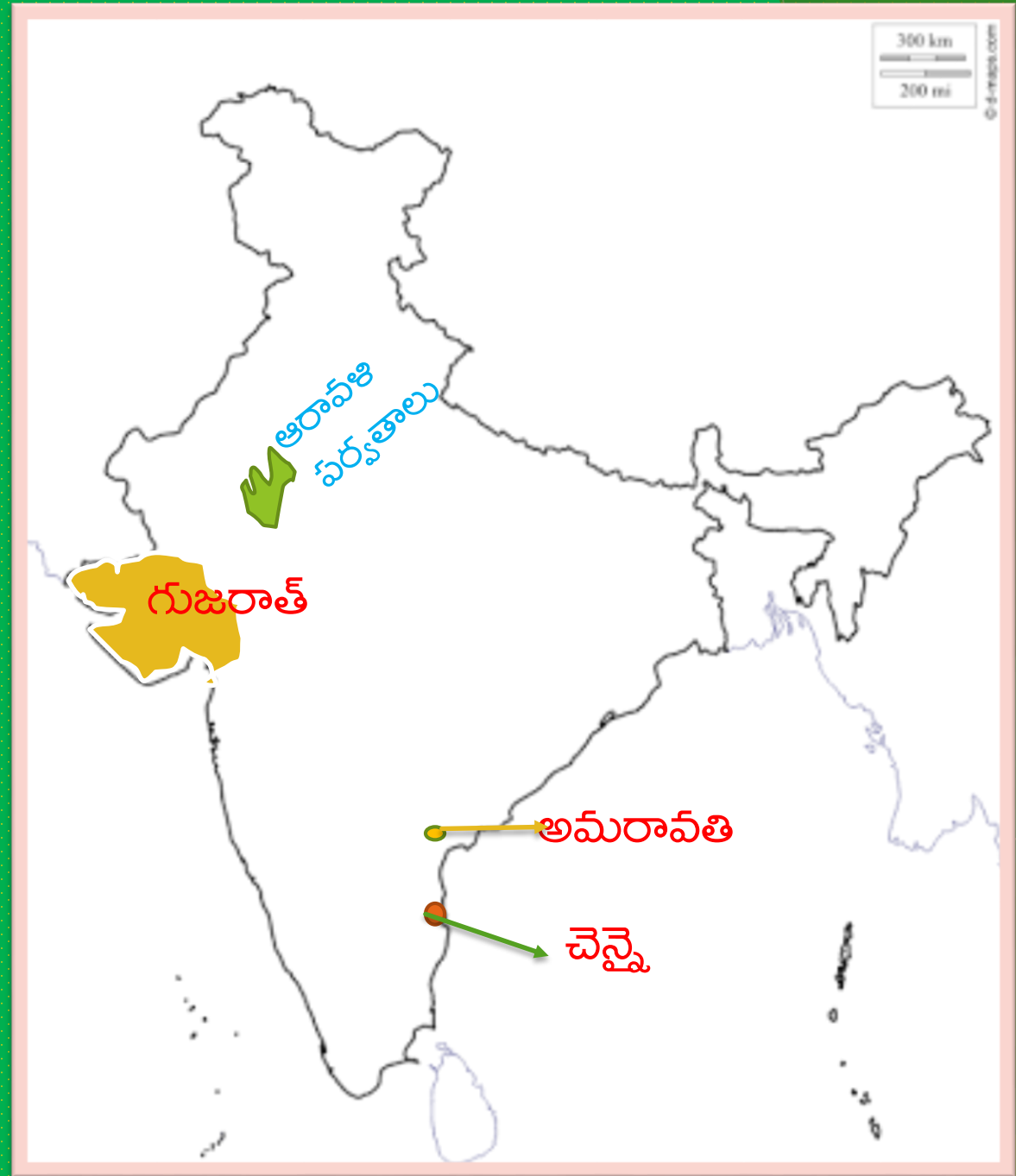
పట నైపుణ్యాలలో ప్రధానంగా 3 అంశాలు ఇమిడి ఉన్నాయి. అవి :

1. పటాన్ని గీయడం
2. పటాన్ని గుర్తించడం
3. పటాన్ని చదవడం

1. పటాన్ని గీయడం



2. పటాన్ని గుర్తించడం





ಉತ್ತರ ಅಮೆರಿಕಾ

ಐರೋಪಾ

ಆಸಿಯಾ

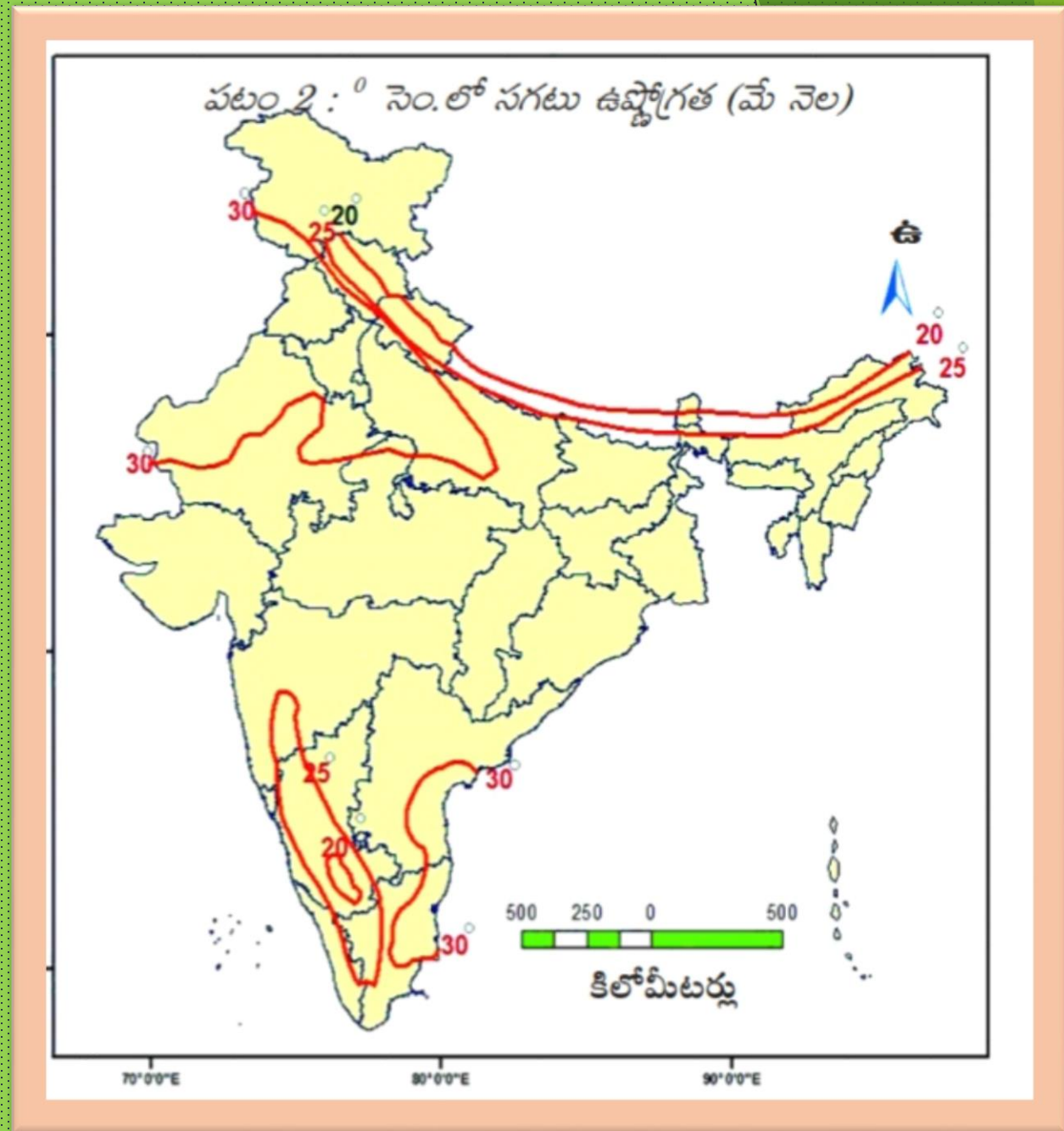
ದಕ್ಷಿಣ ಅಮೆರಿಕಾ

ಆಫ್ರಿಕಾ

ಆಸ್ಟ್ರೇಲಿಯಾ

ಅಂಟಾರ್ಕ್ಟಿಕಾ

3. పటాన్ని చదవడం



భారీ ఎడారి



పటం 3 : ద్వీపకల్ప
పీఠభూమి,
కనుమలు
కొండలు

బంగాళాఖాతం

- సూచిక
- పీఠభూమి
- కనుమలు, కొండలు
- స్కేలు (కి.మీ.)

0 200 400 600

మాన-చిత్రం (పటము) - చిత్తు చిత్రం

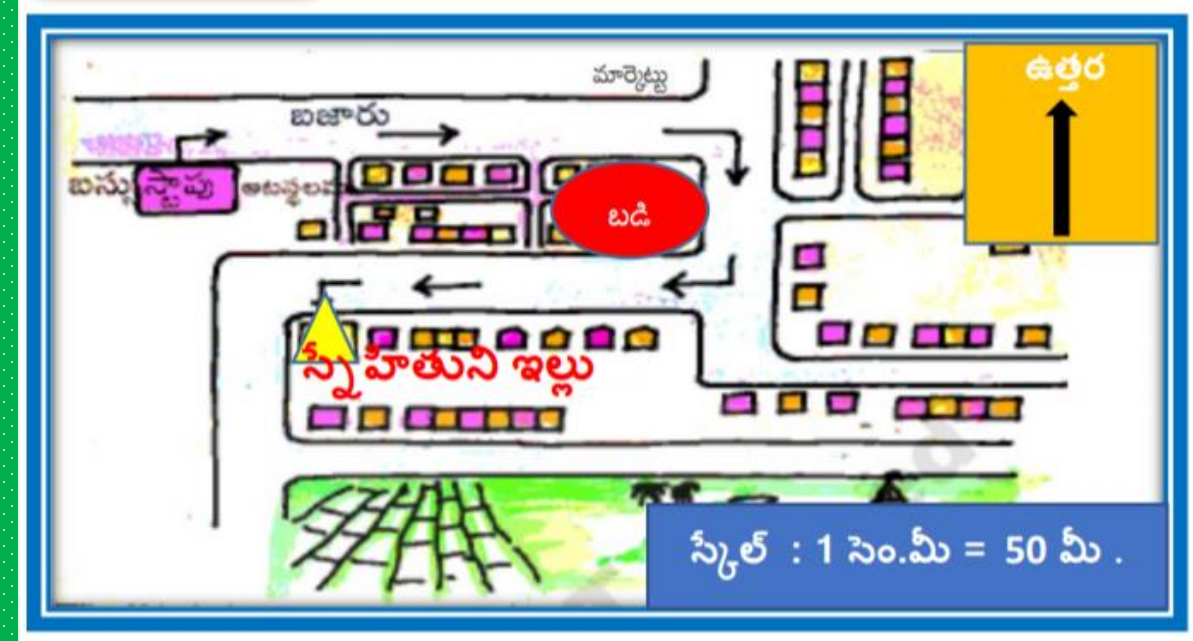
చిత్తు చిత్రం



సేకలు , దిక్కులను చూపని చిత్రాన్ని

"చిత్తు చిత్రము" అందురు.

మానచిత్రం (పటము)



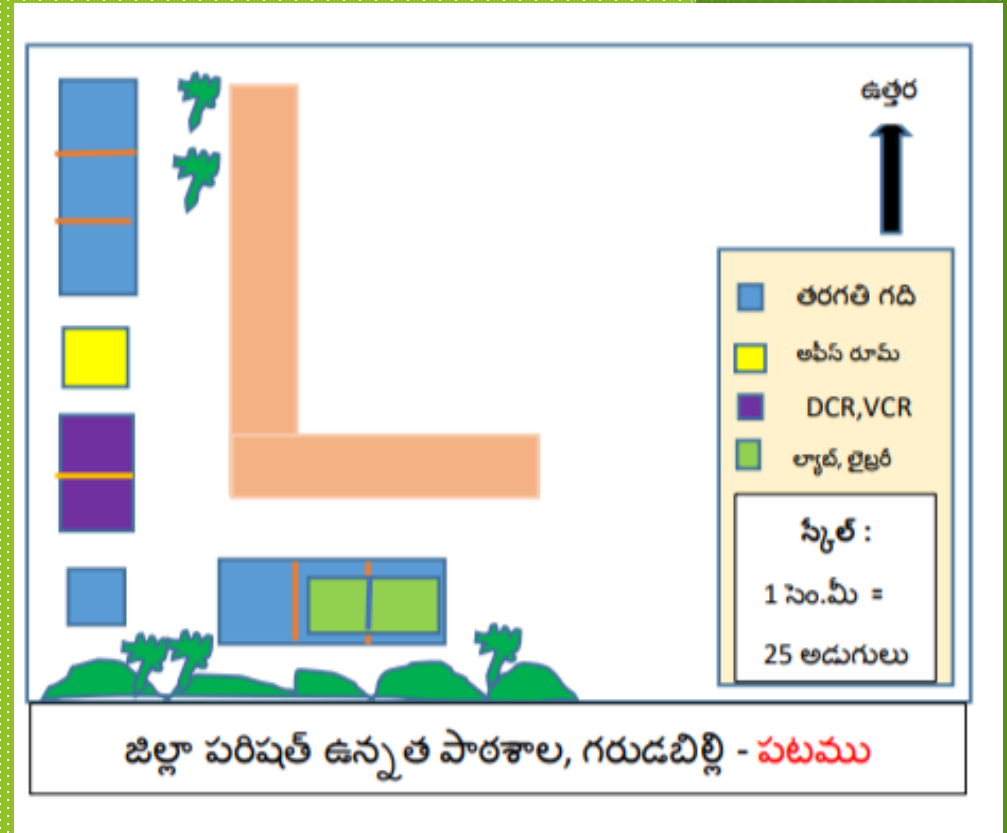
ప్రదేశము యొక్క నమూనాను దిక్కులు , సేకలు ,
చిహ్నాలతో సూచించినదే ' పటము '

(మానచిత్రము).

మాన-఑ిత్రం (పటము) - ఑ిత్రం



జిల్లా పరిషత్ ఉన్నత పాఠశాల, గరుడబిల్లి **చిత్రము**



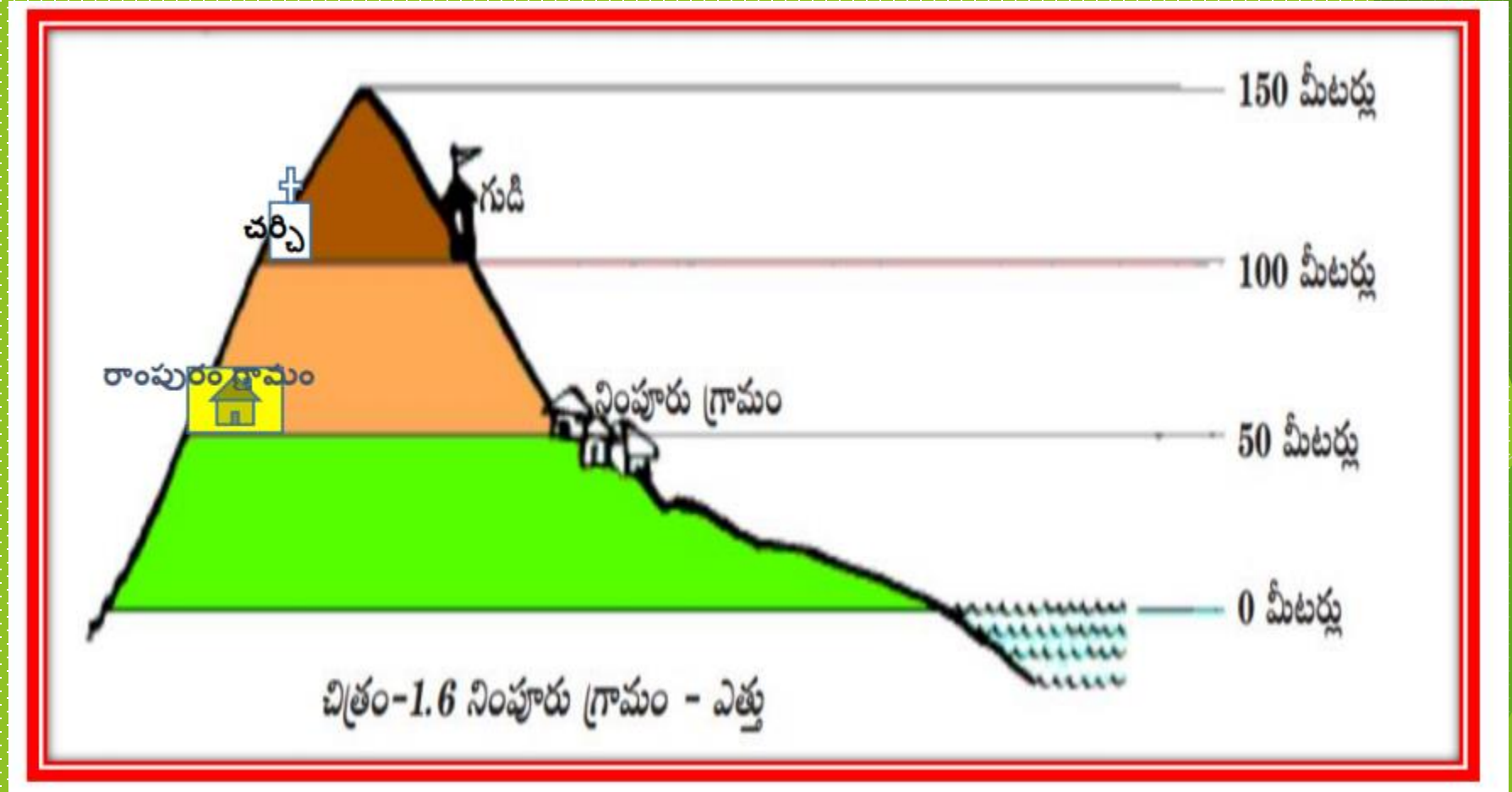
చిత్రం వలె పటము నిజమైన అంశాలను చూపించదు. ముఖ్యమని భావించే అంశాలను చూపించడానికి చిహ్నాలను పటములో ఉపయోగిస్తారు. పటము స్కేల్ ఆధారంగా గీయబడుతుంది.

మాన-చిత్రం (పటము)	చిత్రము
1. పటము నిజమైన అంశాలను చూపించదు. చిహ్నాలు మాత్రమే చూపబడతాయి.	1. ఇది నిజమైన అంశాలను చూపిస్తుంది.
2. పటము స్కేల్ ఆధారంగా గీయబడుతుంది.	2. దీనిలో స్కేల్ సూచించబడదు.
3. కొన్ని ప్రత్యేక అంశాలను చూపడానికి ఉపయోగపడుతుంది.	3. ఇది అటువంటి ప్రత్యేక అంశాలను చూపడానికి ఉపయోగపడదు.

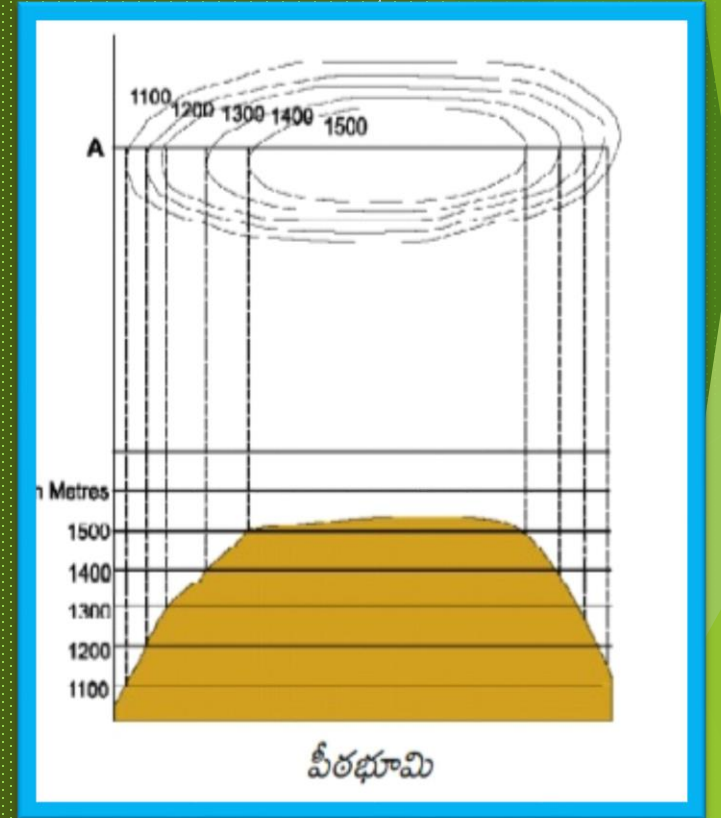
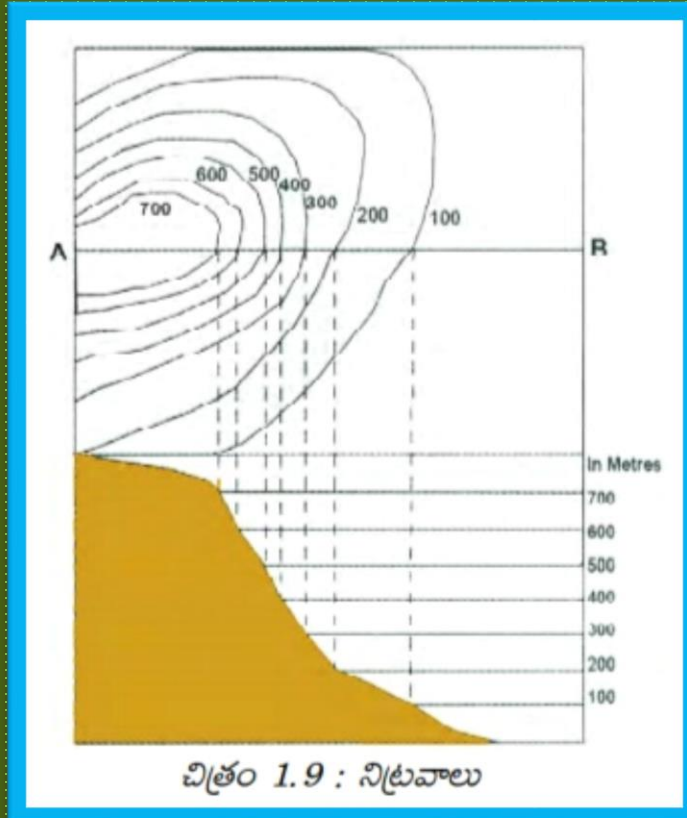
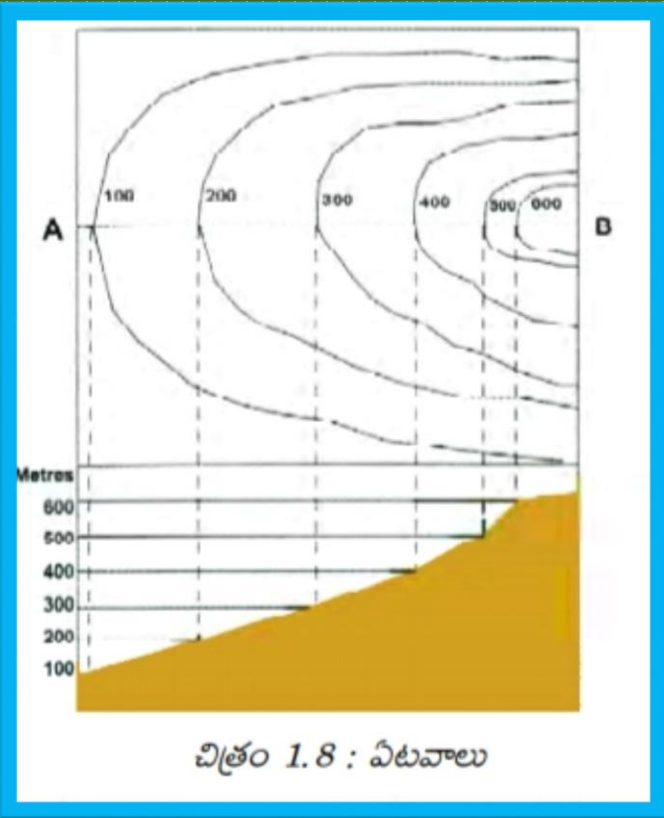
కాంటూరు రేఖలు

ఒకే ఎత్తులో గల ప్రదేశాలను కలుపుతూ గీసే రేఖలను "సమతల రేఖలు",

(కాంటూరు రేఖలు) అందురు.



భూమి వాలు ఎక్కువుగా ఉంటే కాంటూరు రేఖల మధ్య దూరం తక్కువుగా ఉంటుంది. వాలు తక్కువుగా ఉంటే కాంటూరు రేఖల మధ్య దూరం ఎక్కువుగా ఉంటుంది.



Thank You